

БИЛЕТЫ ДЛЯ ОБУЧАЮЩИХСЯ 1-4 КЛАССОВ

1



Как должен поступить пешеход в этой ситуации?

1. Пройти перед автомобилем, убедившись, что он остановился и уступает Вам дорогу.
2. Пройти первым.
3. Уступить автомобилю.

2



Как называется этот дорожный знак?

1. Пешеходная дорожка.
2. Пешеходный переход.

3



Как называется этот дорожный знак?

1. Велосипедная дорожка.
2. Движение на велосипедах запрещено.
3. Стоянка для велосипедов.

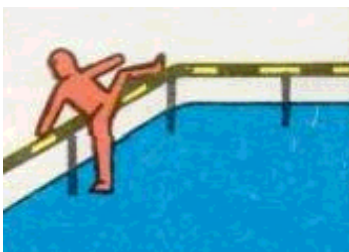
4



Как называется этот дорожный знак?

1. Надземный пешеходный переход.
2. Подземный пешеходный переход.
3. Движение пешеходов запрещено.

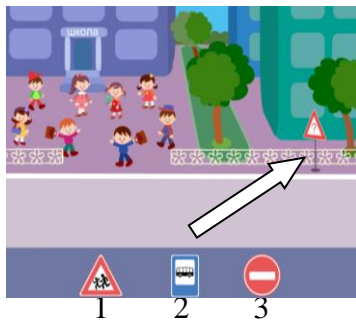
5



Разрешено ли переходить дорогу в местах, где есть пешеходные ограждения?

1. Разрешено, если нет движущихся транспортных средств.
2. Запрещено.

6



Выбери один из знаков, который подходит к картинке.


7



Как вести себя при переходе проезжей части в ненастную погоду?

1. Воздержаться от перехода до окончания дождя или снегопада.
2. Дождаться зеленого сигнала светофора и, не обращая внимание на погоду, перейти проезжую часть.
3. Быть особенно внимательным, при переходе на зеленый сигнал светофора, если на улице сыро или скользко, машина не может резко остановиться, даже если водитель сразу нажмет на тормоз.

8



Как безопасно переходить дорогу, выйдя из автобуса?

1. Сзади автобуса.
2. Спереди автобуса.
3. Дождаться когда автобус отойдет от остановки на достаточное расстояние и перейти дорогу.

9



Как называется этот дорожный знак?

1. Движение велосипедов запрещено.
2. Велосипедная дорожка.

10



Как называется этот дорожный знак?

1. Пешеходный переход.
2. Пешеходная дорожка.
3. Движение пешеходов запрещено.

11



К какой группе относится дорожный знак?

1. Знаки приоритета.
2. Предупреждающие знаки.
3. Запрещающие знаки.
4. Информационные знаки.

12



Где разрешается кататься на санках и лыжах?

1. По дороге, предназначенной для пешеходов.
2. По правой стороне проезжей части.
3. В специально отведенных местах для массового отдыха, где нет опасности выезда на проезжую часть.


13



Можно ли переходить дорогу?

1. Можно перейти дорогу.
2. Можно, убедившись, что транспорт остановился.
3. Нельзя, нужно пропустить транспортное средство.

14



Что должны, по возможности, предпринять пешеходы при движении по дорогам в темное время суток и в условиях недостаточной видимости?

1. Надеть яркую нарукавную повязку.
2. Прикрепить к своей одежде световозвращающие элементы.

15



Как называется этот дорожный знак?

1. Стоянка автотранспорта.
2. Место стоянки легковых такси.
3. Место остановки трамвая.
4. Место остановки автобуса и (или) троллейбуса.

16



Где нужно ожидать общественный транспорт?

1. Транспорт нужно ждать на остановке, при этом ни в коем случае нельзя выходить на проезжую часть!
2. В любом месте.
3. На проезжей части.

17



Разрешается ли ребенку в возрасте от 7 до 11 лет ехать на переднем сиденье легкового автомобиля?

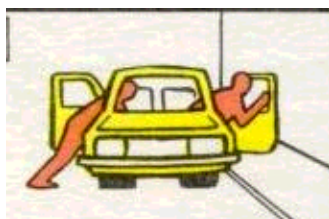
1. Разрешается, пристегнувшись ремнем безопасности.
2. Разрешается, пристегнувшись в автокресле (в детском удерживающем устройстве, соответствующем весу и росту ребенка).

18



Какой из этих дорожных знаков разрешает переход проезжей части именно в том месте, где он установлен?

19



Можно ли садиться и выходить из автомобиля со стороны проезжей части?

1. Можно садиться и выходить из автомобиля со стороны тротуара или обочины после полной остановки транспортного средства.
2. Можно садиться и выходить из автомобиля в любом месте, где бы он остановился

20



Как называется этот дорожный знак?

1. Место для детских игр.
2. Жилая зона.
3. Место для стоянки автомобилей.

